

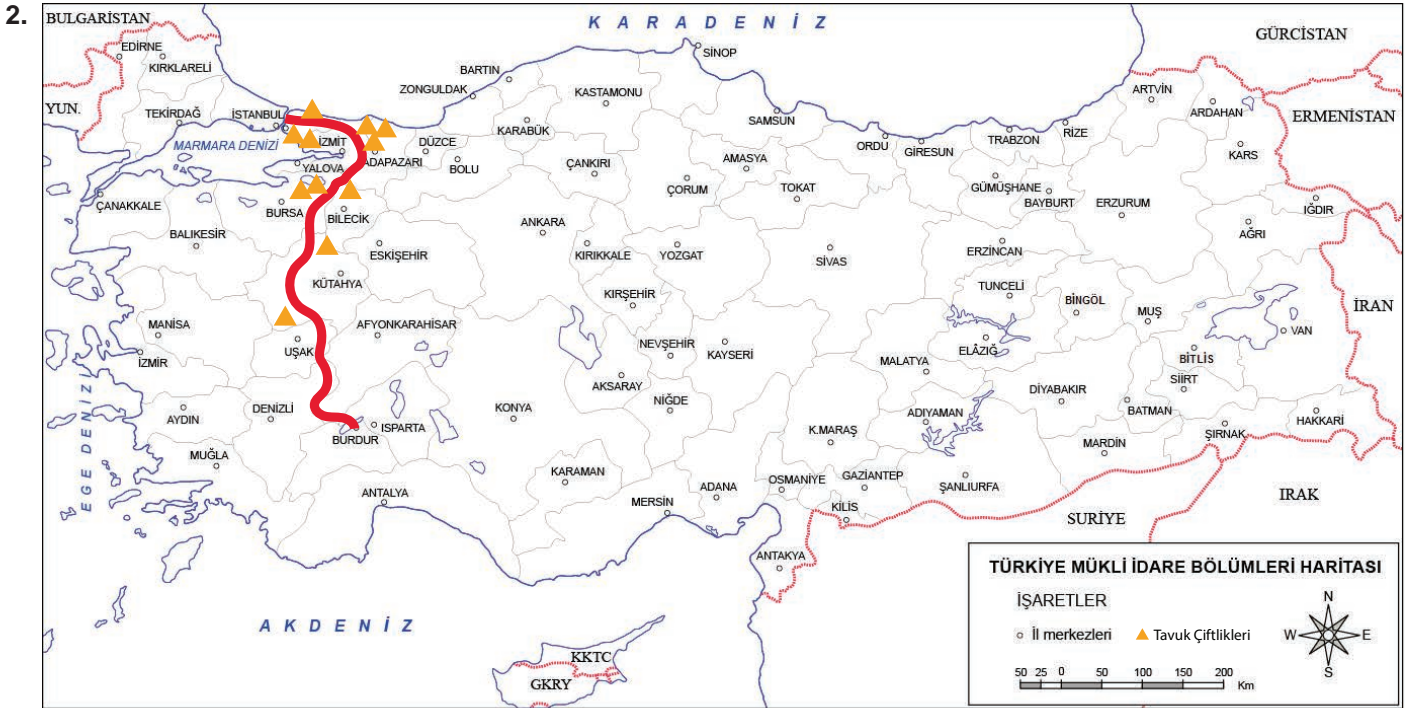
5. Ünite: Üretim, Tüketim ve Dağıtım

1. Güneydoğu Anadolu Projesi su kaynaklarını özellikle de Fırat ve Dicle nehirlerini etkili kullanarak sosyal, kültürel, ekonomik ve çevresel gelişmeyi içeren bir bölgesel kalkınma projesidir. GAP'ın bölgeye etkilerine şu örnekler verilebilir:

- GAP'tan sonra Şanlıurfa pamuk üretiminde ülke birincisi olmuştur.
- Bölgenin tarihi ve doğal güzelliklerinin fark edilmesi sağlanmıştır.
- Pamuklu dokuma fabrikaları açılmıştır.

Verilen örneklerde GAP'ın aşağıdaki alanlardan hangisine katkısından bahsedilmemiştir?

- A) Sanayi B) Tarım C) Ulaşım D) Turizm



Haritadaki güzergahta ailesiyle seyahat eden 6. sınıf öğrencisi Ahmet belirli merkezlerde tavuk çiftliklerinin yoğun olduğunu görmüştür. Babasına kümes hayvancılığının neden bu merkezlerde yaygın olduğunu sormuştur.

Babasının verdiği cevap şöyledir:

- Kümes hayvancılığı arazi ve iklim seçiciliği olmadığı için ülkemizin her yerinde yapılabilir. Fakat bu güzergahta yaygın olmasının sebebi ise...

Ahmet'in babasının verdiği cevabın devamı aşağıdakilerden hangisidir?

- A) İklimin uygun olmasıdır.
B) Arazilerin düz ve geniş olmasıdır.
C) Ekonomik getirisinin yüksek olmasıdır.
D) Nüfusu fazla olan illere yakın olmasıdır.

5. Ünite: Üretim, Tüketim ve Dağıtım

3. Trakya Hamitabat'ta yaşayan İlker Bey ve ailesi evinin kışın ısınma sorununu doğalgazlı kalorifer kullanarak çözerken Manisa Salihli'de yaşayan Muhsin Bey ve ailesi bu sorununu Jeotermal sistemli sıcak suyla çözmektedir. Batman'da yaşayan Ahmet Bey ve ailesi ise petrol kaynaklı sıvı yakıt kullanarak ısınırken Muğla Yatağan'da yaşayan Mustafa Bey ve ailesi linyit kömürü yakan katı yakıtlı kalorifer kullanarak kışın ısınmışlardır.

Buna göre aşağıdaki kişilerden hangisi tükenmeyen (yenilenebilen) enerji kaynağını kullanarak kışın ısınma sorununu çözmüştür?

- A) İlker Bey B) Muhsin Bey C) Ahmet Bey D) Mustafa Bey

4.



Buna göre toprağın;

- I. Tarım
II. Hayvancılık
III. Madencilik

alanlarından hangilerinde kullanıldığı söylenebilir?

- A) Yalnız I. B) Yalnız II. C) I ve II. D) I, II ve III.

5. Ülkemizdeki doğal kaynaklardan biri de ormanlardır. Ekonomik faaliyetlerle ilgili olarak ormanlardan elde edilen ana malzeme odun ve tomruktur. Kereste ve kağıt sanayisinin hammaddesi olan odun her türlü ahşap ürünün yapımında da kullanılarak ekonomik kazanç elde edilir. Bunların yanı sıra ağaç ve bitkilerden; gıda üretiminde, barınmada, hayvancılıkta, cilt bakım ve güzellik ürünleri ile ilaç yapımında faydalanılır.

Verilen metinde ormana dayalı sektörlerden hangisine değnilmemiştir?

- A) Turizm B) Eczacılık C) Kozmetik D) Mobilyacılık

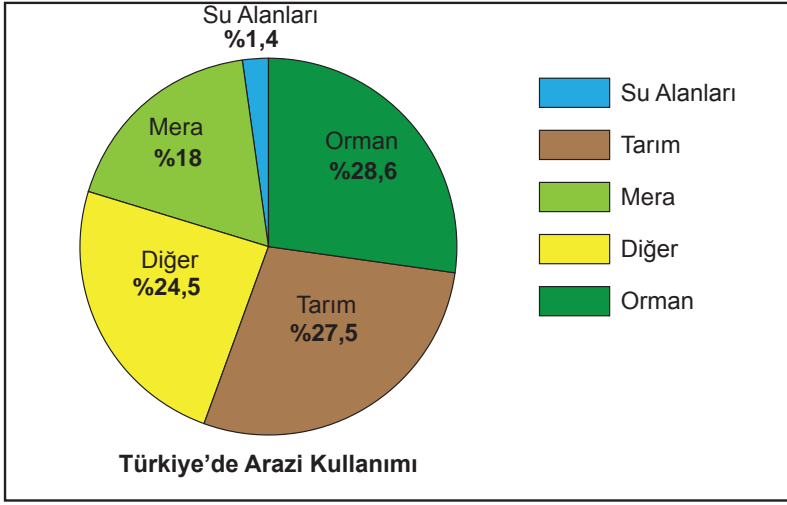
5. Ünite: Üretim, Tüketim ve Dağıtım

6. Dünyada ticareti yapılan 90 çeşit madenden 77'si Türkiye'de bulunmaktadır. Ülkemizde çıkarılan demir, krom, bakır, boksit gibi madenler sanayimizde önemli yere sahiptir. Öyle ki ülkemizin en büyük 100 sanayi kuruluşundan 23'ü madene dayalı sanayi kuruluşlarıdır. Ayrıca yine ülkemizde çıkarılan taşkömürü, linyit gibi madenler termik enerji üretiminde kullanılmaktadır.

Verilen bilgiler değerlendirildiğinde aşağıdaki yargılardan hangisine ulaşamaz?

- A) Türkiye maden çeşitliliği bakımından zengindir.
B) Madenlerin tamamı ülke içinde kullanılmaktadır.
C) Yeraltı kaynakları ekonomiye katkı sağlamaktadır.
D) Enerji üretiminde madenlerden yararlanılmaktadır.

7.



Verilen grafikten aşağıdakilerden hangisine ulaşılabilir?

- A) Diğer alanlar genellikle sosyal tesisler ve yerleşim için ayrılmıştır.
B) Tarım alanlarında en çok yetiştirilen ürünler buğday ve arpadır.
C) Türkiye arazisinin yarısından fazlası tarım ve orman alanıdır.
D) Su alanları içerisinde en büyük oran akarsulara aittir.

8. Yapılan araştırmalar önemli birer enerji kaynağı olan petrol, kömür ve doğal gaz gibi kaynakların yeni rezervler bulunmazsa aşırı kullanılmaları nedeniyle çok kısa bir zaman sonra tükenecekleri yönündedir.

Aşağıdakilerden hangisi bu durumun önüne geçmek için yapılması gereken çalışmalardan birisidir?

- A) Fosil yakıtların kullanımını artırmak
B) Isınımada linyit kömürünü tercih etmek
C) Yenilenebilir enerji kaynaklarına yönelmek
D) Doğal kaynakların kullanımına son vermek

5. Ünite: Üretim, Tüketim ve Dağıtım

9. Mehmet Bey, Sivas'ın Divriği ilçesinde çıkarılan demir madenini işleyerek bir demir-çelik fabrikası kuracaktır. Ancak fabrika için maden kömürünün çıkarıldığı Karabük'ü tercih etmiştir. Çünkü demiri eritmek için yüksek ısıya ihtiyacı vardır.

Mehmet Bey'in Karabük'ü tercih etmesinde aşağıdakilerden hangisi etkili olmuştur?

- A) Ulaşım yollarına yakınlığı
B) Enerji kaynağına yakınlığı
C) Pazarlama kolaylığı
D) İş gücü temininin kolaylığı

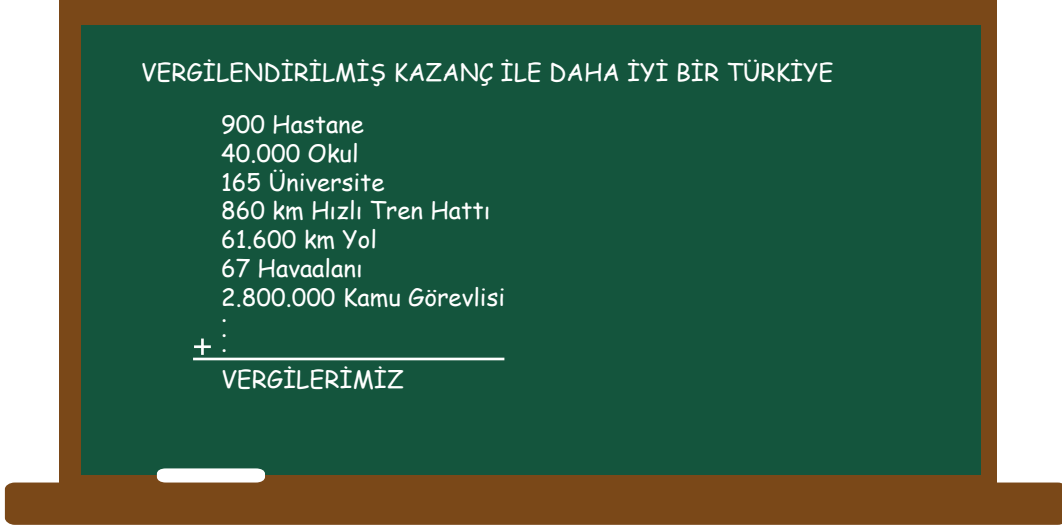
10.

Türkiye Cumhuriyeti Anayasası (1982) Madde 73 - Herkes, kamu giderlerini karşılamak üzere, mali gücüne göre, vergi ödemekle yükümlüdür.

Aşağıda verilen yargılardan hangisi anayasamızın yukarıda verilen maddesini destekler nitelikte değildir?

- A) Gelire göre vergi toplamak esastır.
B) Vergi vermek bir vatandaşlık görevidir.
C) Kamu giderleri vergilerle sağlanmaktadır.
D) Herkesten aynı miktarda vergi alınmaktadır.

11.



Tahtaya yazılan bilgilerden yola çıkarak vergilerle ilgili aşağıdakilerden hangisine ulaşamaz?

- A) Kamu giderleri için kaynak oluşturulmuştur.
B) Halkın toplumsal ihtiyaçları karşılanmıştır.
C) Devletimize maddi kaynak sağlanmıştır.
D) İlk yatırımlar sağlık alanına yapılmıştır.

5. Ünite: Üretim, Tüketim ve Dağıtım

12. Doğal kaynaklarımızdan biri olan ormanlarımız ağaçlardan, çalılardan, otsu bitkilerden, mantarlardan, mikroorganizmalardan oluşur. Reçine, sığla yağı, palamut gibi orman ürünlerinden ilaç ve kozmetik üretiminde faydalanırız. Bünyesinde kurt, karaca, tilki, ayı, domuz ve geyik gibi yaban hayvanları da barındıran ormanlarımız doğal güzelliği ile de yerli ve yabancı birçok ziyaretçinin ilgisini çekmektedir.

Buna göre ormanlarımızın;

- I. Sağlık
- II. Turizm
- III. Hayvancılık

faaliyetlerinden hangilerine yaptığı katkıdan bahsedilmiştir?

- A) Yalnız I. B) I ve II. C) II ve III. D) I, II ve III.

13.



Harita incelendiğinde ülkemizdeki ekonomik faaliyetlerle ilgili olarak;

- I. Turizm faaliyetlerinin yaygın bir şekilde yapıldığı
- II. Ekonomik faaliyetlerin çeşitlilik gösterdiği
- III. Tarım ve hayvancılıkta yüksek gelir elde edildiği

ifadelerinden hangileri söylenebilir?

- A) Yalnız I. B) Yalnız II. C) II ve III. D) I ve III.

5. Ünite: Üretim, Tüketim ve Dağıtım

14. Doğal yollarla oluşan; toprak, su, maden, orman, rüzgar ve güneş gibi insanların ihtiyaçlarını karşılayan her türlü zenginliğe doğal kaynak denir. İnsanlar, ekonomik faaliyetlerde bulunarak doğal kaynakları kazanca dönüştürmüştür.

Buna göre, aşağıdakilerden hangisi doğal kaynakların ekonomik faaliyetlere dönüşümüne örnek olarak gösterilemez?

- A) Eğitim fakültesinde okuyan Meltem Hanım'ın tarih öğretmeni olması
- B) Ormanlık bir bölgede yaşayan Ali Bey'in kerestecilik yapması
- C) Zeytin üretimi yapan Mustafa Bey'in zeytinyağı üretmesi
- D) Deniz kıyısında yaşayan Ahmet Bey'in balık satması

15. Canlıların yaşamlarını devam ettirebilmeleri için hava, su, toprak gibi doğal kaynaklara ihtiyaçları vardır. Örneğin nefes alabilmek için havaya, besin elde edebilmek için de toprağa, güneşe ve suya ihtiyaç vardır. Doğal kaynaklarımız sadece bu gün için değil; gelecek nesillerin ve diğer canlıların devamı için önemlidir. Bu dengenin bozulmaması için doğal kaynaklarımızı bilinçli kullanmalıyız.

Buna göre doğal kaynaklar ile ilgili aşağıdakilerden hangisinden söz edilmemiştir?

- A) Birçok alanda faydalanıldığından
- B) Tasarruflu kullanılması gerektiğinden
- C) Yenilebilir enerji kaynağı olduğundan
- D) Doğal kaynakların korunmasının gerekliliğinden

16.



Verilen görseller değerlendirildiğinde üretimin hammaddeye yakınlık ilkesini göz önüne alındığında haritada zeytin işletmeciliğinin hangi numara ile gösteren alanlarda yapılması daha uygun olur?

- A) I
- B) II
- C) III
- D) IV

5. Ünite: Üretim, Tüketim ve Dağıtım

17. Un ve makarna sanayinde kullanılan buğday, ülkemizde tahıllar içinde en fazla yetiştirilen tarım ürünüdür. Buğday ülkemizde Karadeniz'in kıyı kesimleri hariç her yerde yetiştirilebilmektedir.

Yukarıdaki bilgiler değerlendirildiğinde buğday tarımıyla ilgili aşağıdaki bilgilerden hangisine ulaşamaz?

- A) Un ve makarna sanayinin hammaddesidir.
- B) Üretim potansiyeli en yüksek tahıl ürünüdür.
- C) Ülkemizde yetiştirme alanı geniş yer tutmaktadır.
- D) Ege kıyılarındaki üretim miktarı İç Anadolu'dan fazladır.

18. Şifalı Bitkiler Ülke Ekonomisine de İlaç Oldu

Türkiye'de defne, kekik, ada çayı ve keçiboynuzu gibi orman ürünlerinin ihracatından 507 milyon dolar gelir elde edilerek ekonomiye büyük katkı sağlandı. T.C. Orman ve Su İşleri Bakanlığı yetkililerinden alınan bilgiye göre Türkiye biyolojik çeşitlilik açısından tüm Avrupa'nın sahip olduğu zenginliği tek başına bünyesinde barındırıyor. Ülkeler ormanlardan elde ettikleri şifalı bitkilerin küresel pazarda satışından milyar dolarlık gelir sağlıyor. Türkiye de bu pazardaki payını her geçen gün artırıyor.

Verilen bilgilere göre aşağıdakilerden hangisine ulaşamaz?

- A) Defne, kekik, ada çayı ve keçiboynuzu kıyı kesimlerde yetişmektedir.
- B) Orman ürünlerinin ihracatı, ülkemize ekonomik katkı sağlamaktadır.
- C) Türkiye, şifalı bitkiler pazarındaki payını genişletmektedir.
- D) Ülkemiz orman ürünleri bakımından oldukça zengindir.

19. Ülke ekonomilerinin güçlenmesi için, nitelikli insan gücüne ihtiyaç vardır. Çünkü nitelikli insanlar verimli işler yaparak ve işleriyle ilgili yeni fikirler üretmek ülke ekonomisine katkıda bulunurlar. Nitelikli insan gücü üretime katkı sağlar.

Buna göre nitelikli insanla ilgili olarak;

- I. Yeniliklere açıktırlar.
- II. Üretken ve yaratıcıdırlar.
- III. Ülkenin kalkınmasında etkili olurlar.

İfadelerinden hangilerine ulaşılabilir?

- A) Yalnız I.
- B) I ve II.
- C) II ve III.
- D) I, II ve III.

20.

VERGİ DEYİNCE



Verilen görsele göre aşağıdakilerden hangisi söylenebilir?

- A) Vergilerimiz toplumun ihtiyaçları için kullanılmaktadır.
- B) Vergilerdeki en fazla pay güvenlik hizmetlerine ayrılmıştır.
- C) Vergilerimizin çoğunluğu enerji ihtiyacını karşılamak için kullanılır.
- D) Eğitim ve sağlık kuruluşlarının tamamı devlet tarafından oluşturulmuştur.



Cevap anahtarına ulaşmak için karekodu okutunuz.